



Le monde grec, manuel p 78 et 79

Texte
intro

1) A quelle époque les Grecs s'installent-ils autour de la méditerranée ?

.....

2) A quel siècle plus précisément ? (voir frise p 89)

3) Donne le nom des principales cités-Etats grecques :


Doc
2

.....


4) Cherche la définition du mot colonie :

.....

5) Complète la carte. Il faut utiliser deux couleurs, une pour la Grèce d'origine et une pour les pays colonisés par la Grèce.

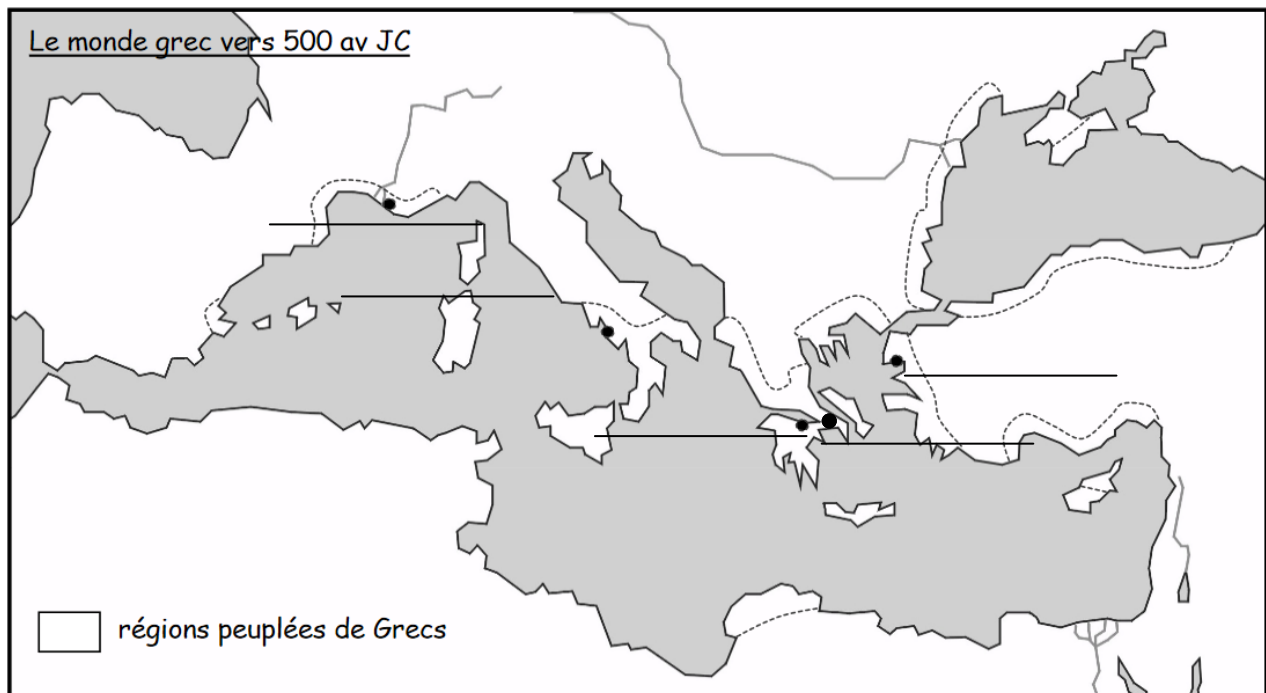


Régions occupées par les Grecs avant le VIII^e siècle.



Pays colonisés par la Grèce du VIII^e au V^e siècle

Doc
2



Doc
2

6) Ecris le noms des villes suivantes en bleu : **Corinthe, Phocée, Athènes, Naples (Néapolis)**
et Marseille (Massalia)

7) Les Grecs s'installent-ils plutôt en bord de mer ou plutôt dans les terres ?

.....

Cadre
vert

8) Qu'est-ce qui rassemble les Grecs ?

.....